

GUÍA PARA EL CERTAMEN DE HISTORIA

NOMBRE
FECHA

En el siguiente mapa, ubica los siguientes reinos germanos romanos, asignándole un color a cada uno



Reinos

Alamanes

Ostrogodos

Visigodos

Vándalos

Burgundios

Francos

Anglosajones

Suevos

EL ISLAM

I. Define y Relaciona las siguientes palabras con el concepto de ISLAM:

Mahoma – Ala - Ángel Gabriel – Islam – Musulmán – La Meca – Año 622 – Guerra Santa – Corán – Califa - Mezquita – Bazar – Hégira.

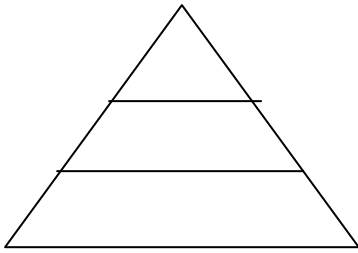
II. Descubre cuáles son las 5 obligaciones de un musulmán, formando una frase con los textos de las tres columnas. Luego cópialas en tu cuaderno.

Hacer la profesión de fe
Rezar 5 veces al día
Ayunar
Practicar la limosna (zakat)
Realizar una peregrinación

Postrado en el suelo
Entregando parte de los bienes propios
Al menos una vez en la vida
Recitando la fórmula del sahadah
Entre la salida y la puesta del sol

En el mes de Ramadán
“No hay más Dios que Alá y Mahoma es su profeta”
A la comunidad
A la ciudad santa de La Meca
En dirección a La Meca

FEUDALISMO



Coloca en la pirámide los 3 estamentos sociales que existieron en la Edad Media


Define Feudalismo

Explica en qué existía el régimen feudal



- a) ¿Qué significa que la sociedad medieval haya sido una sociedad estamental?
- b) ¿Cuáles eran los tres estamentos?
- c) ¿Cómo se justificaba dicha división?
- d) Elige alguno de estos estamentos y describe brevemente su situación durante la época feudal



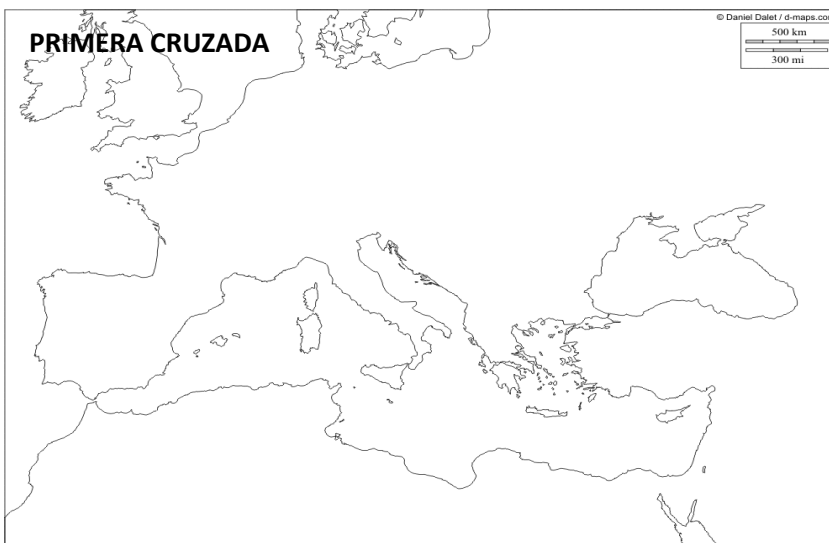


¿Cómo era la economía feudal?
¿Qué actividades económicas se desarrollaban mayoritariamente?
¿Qué sistema de utilizaba?

LAS CRUZADAS

1. ¿Qué eran las Cruzadas? ¿Quiénes se enfrentaron? ¿Cuántas fueron? ¿Qué objetivo se perseguía?

2. En El siguiente mapa deberás trazar la ruta seguida en la primera cruzada y llenar la ficha correspondiente a ella.



Fecha:

Personajes destacados:

Logros Obtenidos