

Nombre \_\_\_\_\_

### **El medio natural**

El islam aparece en la península arábiga. En esta zona había tres partes muy distintas:

- **El sur.** Sus habitantes vivían en poblados fijos.
- **El interior.** Era una zona muy seca (desértica). Sus habitantes eran nómadas (iban de un oasis a otro sin lugar fijo donde vivir).
- **La zona del oeste.** Allí se encontraban las ciudades más ricas. Por esta zona pasaban muchas caravanas de comerciantes que iban desde la India hasta Egipto.

## **1. EL ISLAM**

### **1.1. Mahoma**

Mahoma nació en la ciudad de La Meca. Al principio se dedicó al comercio. Según cuenta la tradición, se le apareció un arcángel y le dijo que predicara la religión de Alá. (“El Dios”).

### **1.2. Las normas del Islam.**

Las enseñanzas de Mahoma están escritas en un libro que se llama el Corán (es como la Biblia de los cristianos).

El Corán tiene estas obligaciones para un buen musulmán:

- Creer que Alá es el único Dios y que Mahoma era su profeta.
- Rezar 5 veces al día mirando a La Meca.
- Dar limosna a los pobres.
- Ayunar durante el mes sagrado (El Ramadán). No pueden comer mientras que el sol esté en el cielo.
- Ir a la ciudad sagrada de La Meca, al menos una vez en la vida.

## **2. LA EXPANSIÓN DEL ISLAM.**

### **2.1. La expansión en la época de Mahoma.**

Mahoma comenzó a predicar su religión en la ciudad de La Meca. En esa época la mayor parte de los habitantes de la Península arábiga creían en muchos dioses (eran politeístas) y pronto consiguió muchos seguidores. Por eso los gobernantes de la ciudad empezaron a preocuparse por las enseñanzas de Mahoma y ordenaron su captura. Mahoma tuvo que huir a otra ciudad: Medina.

Mahoma huyó a Medina en el año 622 d. C. Este año es para los musulmanes su año 0.

En Medina Mahoma se rodeó de muchos seguidores y logró reunir un gran ejército. Diez años después Mahoma conquistó la ciudad de La Meca y se convirtió en el jefe político y religioso de los musulmanes.

Mahoma murió en el año 632. Cuando murió le sucedieron varios califas (califa significa “sucesor” y era la máxima autoridad).

## ACTIVIDADES

1.- Rodea en este mapa del mundo la zona en la que se encuentra la península arábiga.



2.- ¿Cómo eran los habitantes del sur de la península arábiga?

3.- ¿Cómo eran los habitantes del interior?

4.- ¿Cómo era la zona del oeste?

5.- En este mapa de la península arábiga marca con colores diferentes las tres zonas.

6.- Escribe lo que sepas de Mahoma.

7.- Cita tres normas básicas del Islam.

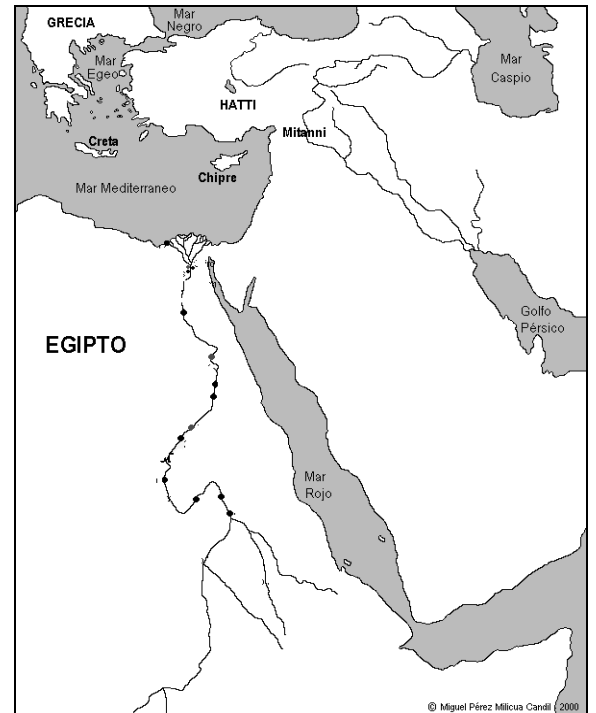
8.- ¿Dónde comenzó a predicar Mahoma?

9.- ¿Qué tipo de religión tenían los habitantes de La Meca?

10.- ¿En qué año huyó Mahoma a la ciudad de Medina?

11.- ¿Cuánto tiempo tardó Mahoma en regresar y conquistar La Meca?

12.- ¿Quiénes sucedieron a Mahoma tras su muerte?



## **2.2. La expansión del islam después de Mahoma.**

Los primeros califas fueron de la familia de los Omeyas. Ellos continuaron la expansión del islam fuera de la península arábiga.

- La expansión hacia el este y hacia el oeste.

En poco tiempo el islam se extendió hasta la India y por el oeste llegó hasta la Península Ibérica (año 711 d.C.)

- Los Abasíes.

Sobre el año 750, la mayor parte de la familia de los Omeya fue asesinada por otra familia muy poderosa: Los Abasíes. Los Abasíes se convierten en los nuevos califas.

Doscientos años después (sobre el s. X) comenzó un periodo de destrucción y el imperio musulmán se separó en muchos pequeños reinos independientes.

## **3. LA ORGANIZACIÓN POLÍTICA.**

Había varios cargos muy importantes:

- **Califa:** Máxima autoridad. Era el jefe político y religioso.
- **Visir:** Era el primer ministro (el que más mandaba después del califa).
- **Emires:** Eran los gobernadores de cada una de las provincias en las que se dividía el enorme imperio.
- **Cadíes:** Eran los jueces (de esta palabra viene el nombre del pueblo de Cádiar)

---

## **ACTIVIDADES**

- 1.- ¿Qué familia gobernó tras la muerte de Mahoma?
- 2.- Hacia donde extendieron sus conquistas de territorios?
- 3.- ¿Qué sucedió sobre el año 750?
- 4.- ¿Qué sucedió sobre el siglo X?
- 5.- Une con flechas

<b>Califa</b>	Era el primer ministro
<b>Visir</b>	Eran los jueces
<b>Emires</b>	Eran los gobernadores de cada una de las provincias
<b>Cadíes</b>	Era el jefe político y religioso

## **4. LA ECONOMÍA.**

La economía musulmana se basaba en la **agricultura** y **ganadería** en las zonas rurales. Pero en las ciudades había un gran **comercio**, incluso había muchísimas caravanas de comerciantes que traían productos de zonas muy lejanas (de la India, de Egipto, etc).

- La agricultura. Usaron técnicas muy ingeniosas para los riegos de los cultivos: acequias y norias.
- La ganadería. Se dedicaban al pastoreo nómada. Criaban dromedarios, caballos de raza, asnos, etc.
- El comercio. Controlaban todo el comercio hacia la India y hacia el Mediterráneo. (ver mapa pág. 105).

## **5. UNA SOCIEDAD DESIGUAL**

### **5.1. Una sociedad desigual.**

La sociedad musulmana era muy desigual. Había personas extremadamente ricas, había muchísimas personas pobres y también había esclavos.

Podemos distinguir tres grupos sociales:

- **Los más poderosos.** (La aristocracia). Eran propietarios de extensas fincas y muchísimo ganado.
- **El grupo intermedio.** Eran los comerciantes, artesanos, propietarios de pequeños negocios.
- **La mayor parte del pueblo.** La mayor parte del pueblo eran campesinos, agricultores y artesanos (zapateros, herreros, albañiles, carpinteros, etc.).

### **5.2. La vida en la ciudad.**

Las calles de las ciudades musulmanas tenían un plano irregular. Eran un auténtico laberinto de calles muchas de ellas sin salida.

En las ciudades musulmanas distinguimos tres zonas:

- **La medina.** Era la zona que estaba dentro de las murallas que protegían la ciudad. En la medina había mercados (llamados zocos), barrios de artesanos (carpinteros, albañiles, panaderos, herreros, etc), mezquitas (lugares para rezar), baños públicos.
- **El alcázar.** Era el lugar donde vivía el gobernante de la ciudad. Estaba acompañado de su ejército.
- **Los arrabales.** Cuando las ciudades crecían y ya no entraba más gente dentro de las murallas la gente tenía que comenzar a construir sus viviendas a las afueras de la ciudad eran los arrabales. Con el tiempo los arrabales también se amurallaban.

## ACTIVIDADES

1.- ¿Cuál era la principal actividad económica en las zonas rurales?

2.- ¿Y en las ciudades?

3.- Completa estas frases:


- La agricultura. Usaron técnicas muy ingeniosas \_\_\_\_\_
- La ganadería. Se dedicaban al \_\_\_\_\_. Criaban \_\_\_\_\_, caballos de raza, asnos, etc.
- El comercio. Controlaban todo el comercio hacia \_\_\_\_\_.

4.- La sociedad musulmana era muy desigual. ¿Qué tres grupos podemos distinguir?

5.- ¿En qué trabajaba la mayor parte del pueblo?

6.- ¿Cómo era los planos de las ciudades musulmanas?

7.- En esta imagen de una ciudad musulmana sitúa lo siguiente: La alcazaba. La mezquita. La muralla. Los arrabales.



8.- Esta foto está tomada de una ciudad de Marruecos

llamada Marrakech. ¿En qué parte de la ciudad está tomada?

¿Por qué?



## 6. LA CULTURA.




### 6.1. La cultura musulmana.

Los musulmanes recogieron todos los conocimientos de los pueblos a los que conquistaron (chinos, persas, indios, etc)

Los musulmanes fueron el pueblo más culto de su época destacando en medicina, astronomía, matemáticas, literatura, etc.

### 6.2. El arte

Destacaron en la arquitectura. Usaban varios **tipos decoraciones**:

<p>Para decorar usaban su propia letra (caligrafía).</p> <p>Normalmente usaban frases del Corán</p>	<p>También usaban figuras de plantas y hojas de la naturaleza.</p>	<p>También usaban figuras geométricas</p>
		

**Tipos de arcos que usaban los musulmanes:**



ARCO DE HERRADURA



ARCO LOBULADO




ARCO PERALTADO

Usaban cúpulas de crucería





decoración de mocárabes



---

### **ACTIVIDADES**

- 1.- ¿Qué tres tipos de decoraciones usaban los musulmanes?
- 2.- Escribe debajo de cada foto el tipo de decoración que es.



- 3.- Dibuja en tu cuaderno un arco lobulado, un arco peraltado y un arco de herradura.
- 4.- Describe cómo es una cúpula de crucería.
- 5.- ¿Qué son los mocárabes?